



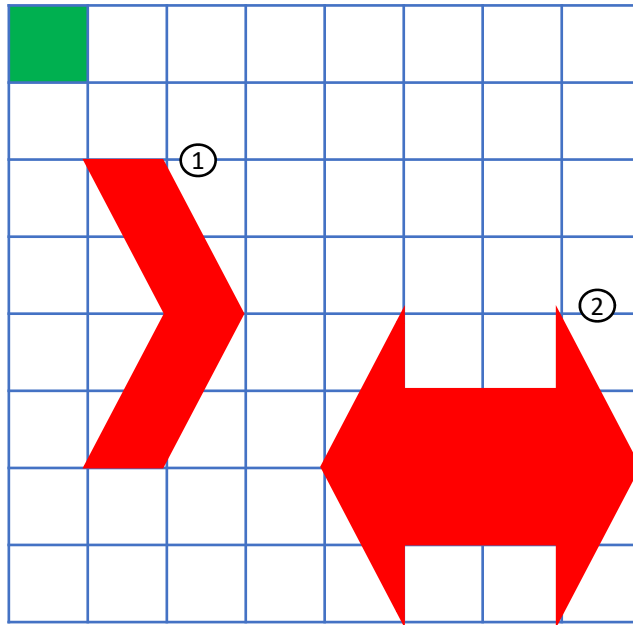
Q. **あか色**の面積は**みどり色**の
四角の面積の何倍？

①

_____倍

②

_____倍



ほかの問題にも
チャレンジして
みよう!!

ドリバー君



No.2

Q. 次の4つの数字を使って10を作ってみよう！ただし、**足し算、引き算、かけ算、わり算**、だけを使って、それぞれの数字は一回しか使えないよ

例えば...

1, 1, 1, 5なら

$(1 + 1) \times 5 \times 1 = 10$ や、

$(1 + 1) \times 5 \div 1 = 10$

という感じでできるね




① 1, 3, 8, 7

② 2, 3, 8, 9

難問！

③ 1, 1, 5, 8

ヒント：③は分数を使うかも...？






難問！

Q. 次の□に数字を当てはめて式を完成させよう!!

$$\begin{array}{r}
 52\square \\
 \times \square\square\square \\
 \hline
 \square\square\square\square \\
 \square\square\square\square \\
 \square\square\square\square \\
 \hline
 2019\square\square
 \end{array}$$

ヒント：繰り上がりを考えると解き方が見えてくるかも...





Twitterで話題!!


Q. 青色の正方形の面積は 1 cm^2 です。次の①②の面積の正方形を下のマスを使って描いてください。

①

2 cm^2

②

5 cm^2



問題は以上です！お疲れ様でした！

君は何問正解できたかな??

